


1) Uppgift: Markera Nord(n) och Syd(s) på magneterna samt måla upp flödet

1



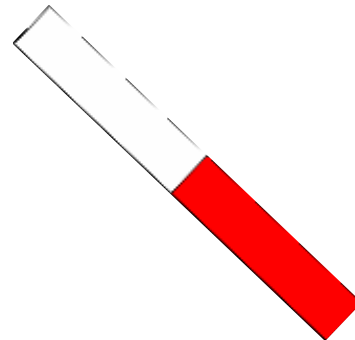
2




3



4



5



6



2a) Uppgift: Varför kan jorden beskrivas som en magnet(måla en bild)?
b) Måla en kompass mitt på bilden och visa hur den ställer sig.

På Baksidan