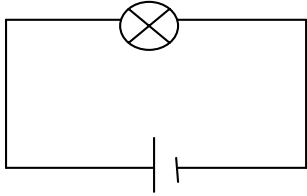


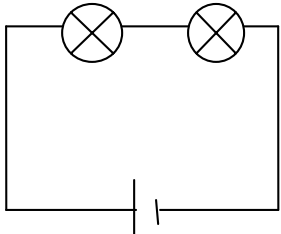
Kopplingsövningar

Kan du koppla detta?

1

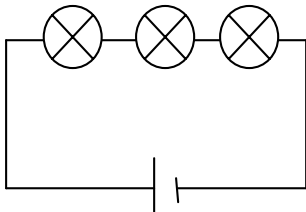


2



Ser du någon skillnad på lamporna? Vad?

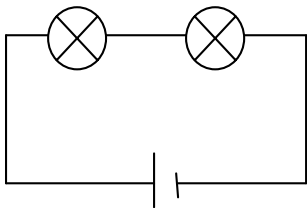
3



Ser du någon skillnad på lamporna nu? Vad?

Vad drar du för slutsats?

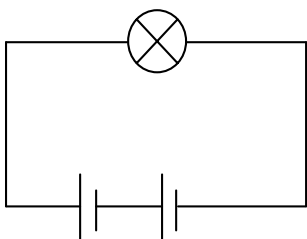
4



Vad kallas en sådan här koppling?

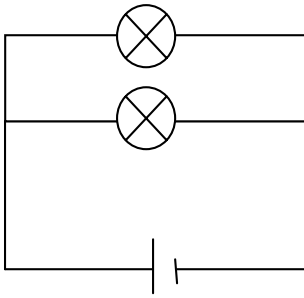
Vad händer om du skruvar ur den ena lampan? Varför?

5



Vad händer med lampan nu? Varför?

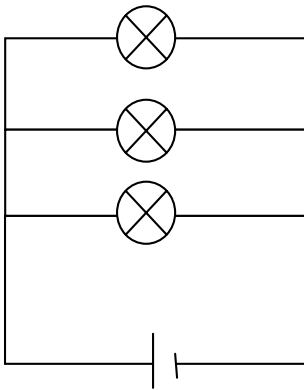
ε



Kan du koppla ihop detta? Vad kallas en sådan koppling?

Ser du någon skillnad på lamporna jämfört med när de två lamporna var kopplade som i uppg. 2? Vad i så fall?

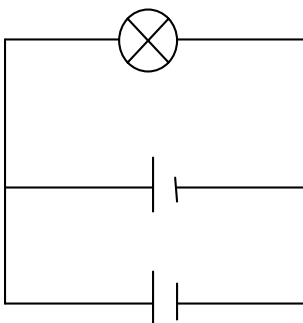
ζ



Ser du någon skillnad nu jämfört med uppg. 3? Vad?

Varför är det så?

ξ



Vad händer med lampan om du kopplar så här?

Varför blir det så?

Vad är det här för typ av koppling?

Vilka slutsatser drar du av allt detta?
